

## Questions flash n°07 - coordonnées d'un point

### Question 1

/ 1

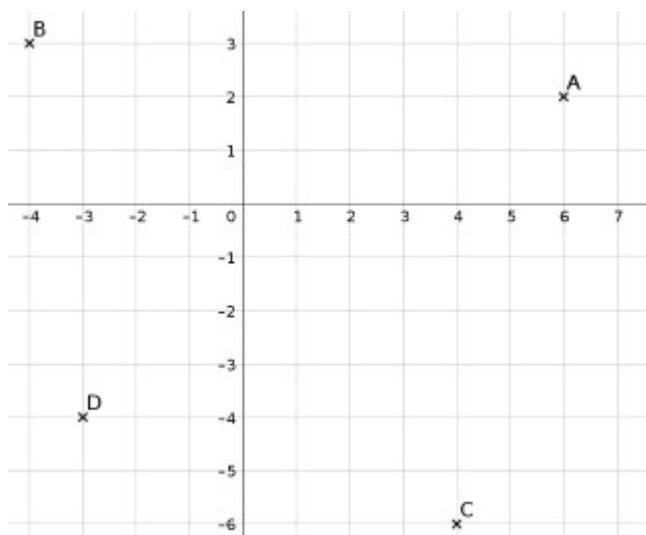
**Donner les coordonnées du point A.**

Remarque : Il faut respecter les consignes suivantes, sinon votre réponse ne sera pas jugée correcte.

- les nombres décimaux doivent être écrits avec une virgule
- les coordonnées sont écrites entre parenthèses
- on commence par l'abscisse (axe horizontal), puis l'ordonnée (axe vertical)
- les deux coordonnées sont séparées par un point-virgule " ; "
- on n'utilise jamais la barre espace.

Exemple :

(2,1;3,7) sont des coordonnées bien écrites.




### Question 2

/ 1

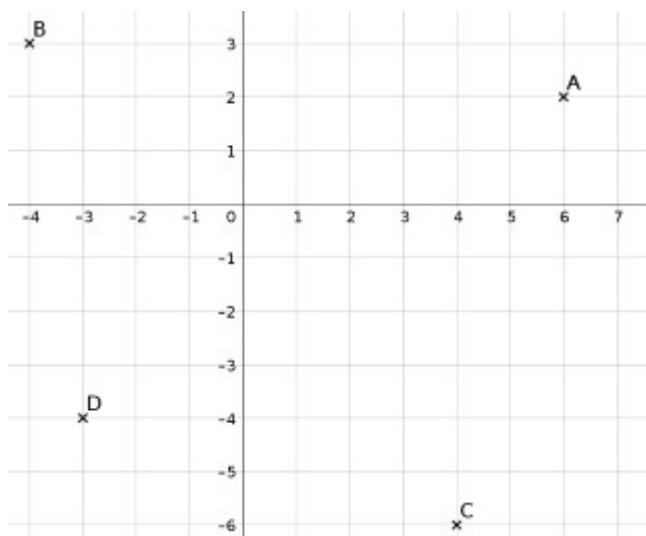
**Donner les coordonnées du point B.**

Remarque : Il faut respecter les consignes suivantes, sinon votre réponse ne sera pas jugée correcte.

- les nombres décimaux doivent être écrits avec une virgule
- les coordonnées sont écrites entre parenthèses
- on commence par l'abscisse (axe horizontal), puis l'ordonnée (axe vertical)
- les deux coordonnées sont séparées par un point-virgule " ; "
- on n'utilise jamais la barre espace.

Exemple :

(2,1;3,7) sont des coordonnées bien écrites.



## Questions flash n°07 - coordonnées d'un point

### Question 3

/ 1

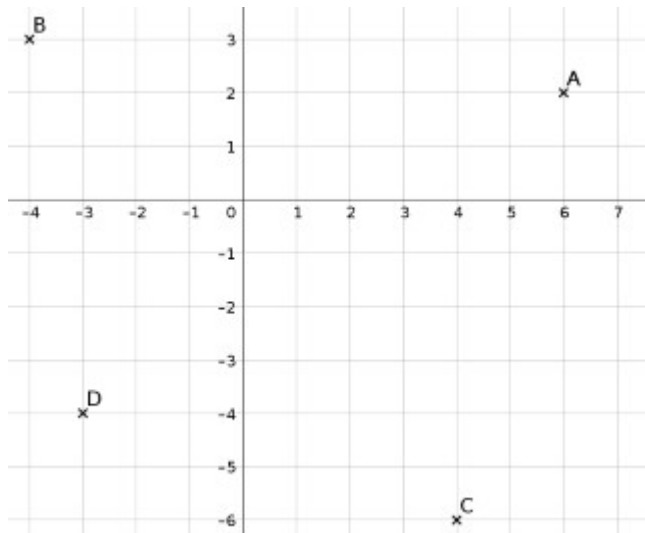
**Donner les coordonnées du point C.**

Remarque : Il faut respecter les consignes suivantes, sinon votre réponse ne sera pas jugée correcte.

- les nombres décimaux doivent être écrits avec une virgule
- les coordonnées sont écrites entre parenthèses
- on commence par l'abscisse (axe horizontal), puis l'ordonnée (axe vertical)
- les deux coordonnées sont séparées par un point-virgule ","
- on n'utilise jamais la barre espace.

Exemple :

(2,1;3,7) sont des coordonnées bien écrites.




### Question 4

/ 1

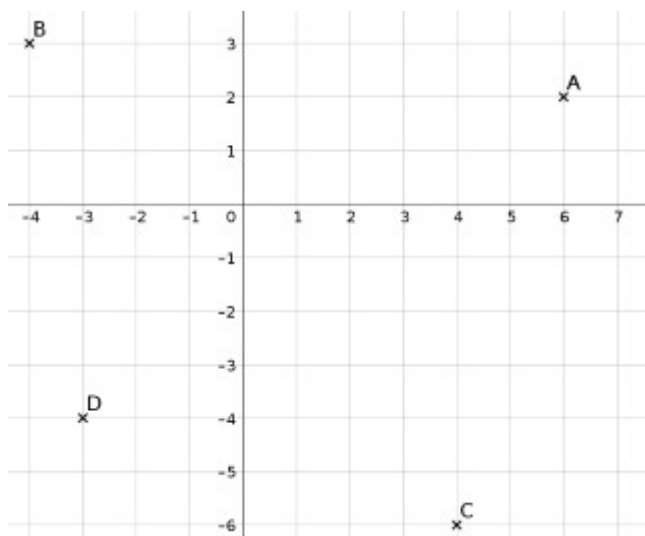
**Donner les coordonnées du point D.**

Remarque : Il faut respecter les consignes suivantes, sinon votre réponse ne sera pas jugée correcte.

- les nombres décimaux doivent être écrits avec une virgule
- les coordonnées sont écrites entre parenthèses
- on commence par l'abscisse (axe horizontal), puis l'ordonnée (axe vertical)
- les deux coordonnées sont séparées par un point-virgule ","
- on n'utilise jamais la barre espace.

Exemple :

(2,1;3,7) sont des coordonnées bien écrites.

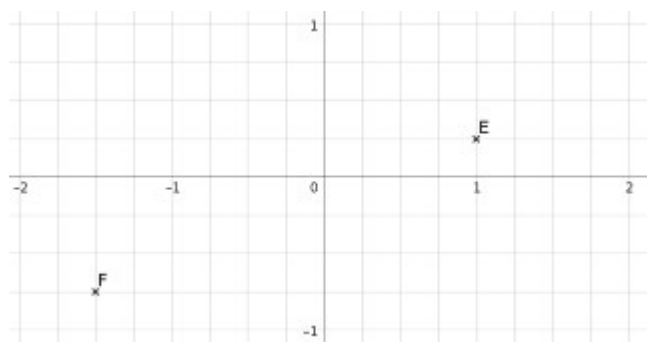


## Questions flash n°07 - coordonnées d'un point

### Question 5

/ 1

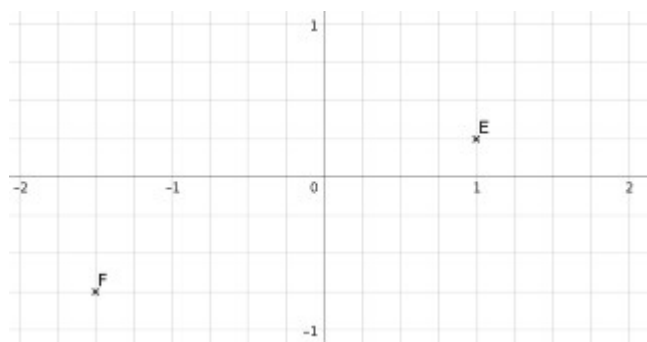
Donner les coordonnées du point E.




### Question 6

/ 1

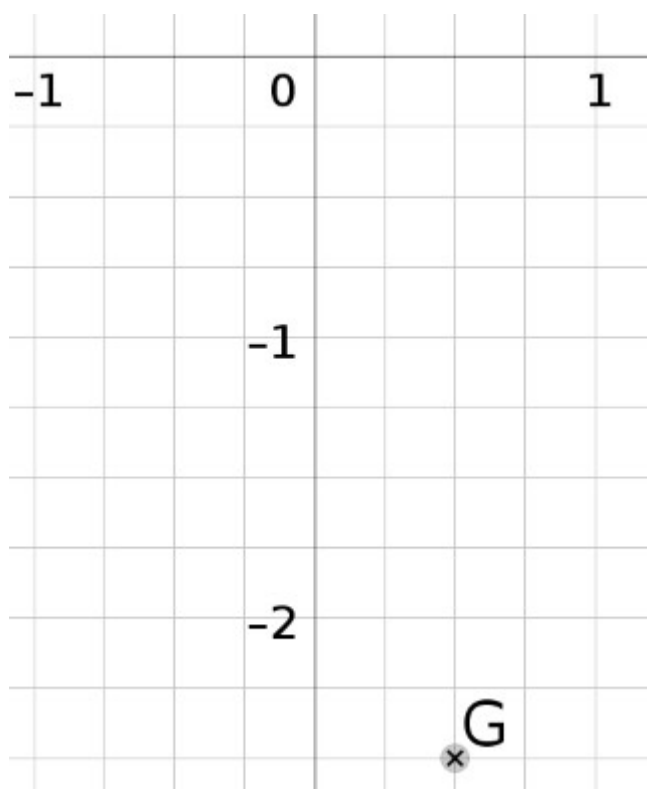
Donner les coordonnées du point F.




### Question 7

/ 1

Donner les coordonnées du point G.

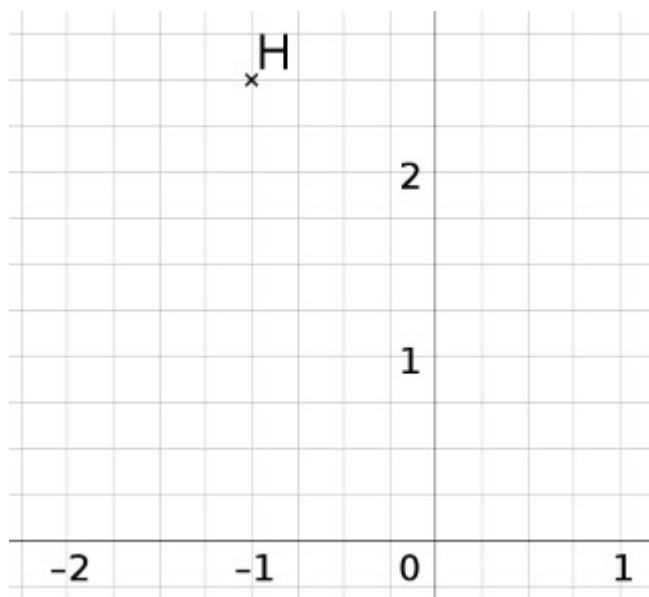


## Questions flash n°07 - coordonnées d'un point

## Question 8

/ 1

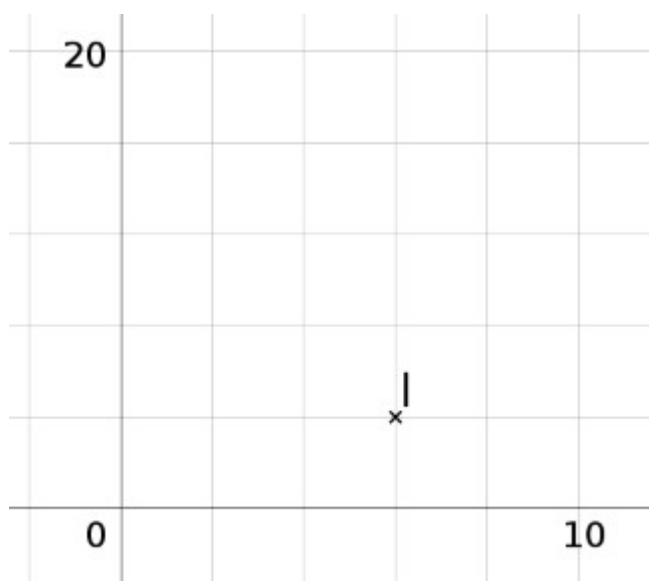
Donner les coordonnées du point H.



## Question 9

/ 1

Donner les coordonnées du point I.



## Questions flash n°07 - coordonnées d'un point

## Question 10

/ 1

Donner les coordonnées du point J.

